

Всероссийская олимпиада школьников 2022-2023 учебный год  
Школьный этап. География

5-6 класс

Шифр участника 2404

Теоретический тур

№ задания	Ответ	Кол-во баллов
1	2	1
2	1	1
3	3	1
4	2	1
5	Африка	1
6	Евразия	1
7	Атлантический	0
8	Байкал	1
9	4	1
10	2	1
11	4	0
12	2	0
13	4	1
14	3	1
15	4	1
Всего баллов		128

Практический тур

Задание № 1

- Восток
- Телевая дорога
  - Шоссе
  - Фруктовая дорога
- Расcеленный пункт городского типа
  - Склон холма
  - Водник

Задание № 2

1	2	3	4	5
В	Б	Г	А	А

Задание № 3

1	2	3	4	5	6	7	8	9	10
А	З	У	Г	Б	Е	К	А	Ж	В

↑ ↑ ↑ ↑ ↑ ↑ ↑ ↑ ↑ ↑ 10

388

Всероссийская олимпиада школьников 2022-2023 учебный год  
Школьный этап. География

5-6 класс

Шифр участника

75394

**Теоретический тур**

№ задания	Ответ	Кол-во баллов
1	а)	0
2	а)	1
3	а)	1
4	а)	1
5	<del>Евразия</del> Африка	1
6	Европа	1
7	а)	1
8	Байкал	1
9	а)	1
10	а)	1
11	а)	1
12	а)	1
13	а)	1
14	а)	0
15	а)	1
Всего баллов		135

**Практический тур**

**Задание № 1**

1. по дороге с Юго - востоке
2. шоссе, железнодорожный путь, тропа. 2
3. 1. устье  
2. обвод 2  
3. подтик 2

**Задание № 2**

1	2	3	4	5
б) 2	б) 2	в) 2	г) 2	а) 2

**Задание № 3**

1	2	3	4	5	6	7	8	9	10
а)	а)	в)	к	б)	г)	з)	г)	ж)	б)
1	1	0	0	1	1	0	1	1	1

365

7

Всероссийская олимпиада школьников 2022-2023 учебный год  
Школьный этап. География

5-6 класс

Шифр участника

2411

Теоретический тур

№ задания	Ответ	Кол-во баллов
1	2) Описание злыш	1
2	1) Северные и южные	1
3	3) Восток	1
4	1)	0
5	Антарктида	0
6	Евразия	1
7	4) Атлант	1
8	Байкал	1
9	2) 4)	1
10	2) Волга, Дунай, Лена	1
11	3) 8 км 25 км	1
12	1) 16 век	1
13	3)	0
14	1)	0
15	1) наводнение	0
Всего баллов		10

Практический тур

Задание № 1

1. Африка или юго-восточная 0
2. Шоссе, железная дорога, тропинка 1
3. 1. доц. квартал  
2. ограда 2  
3. подник 2

Задание № 2

1	2	3	4	5
В	Б	Г	Д	А

10

Задание № 3

1	2	3	4	5	6	7	8	9	10
А	У	З	Т	Б	Е	К	Д	Ж	В
1	1	1	1	1	1	1	1	1	1

(368)

10

Всероссийская олимпиада школьников 2022-2023 учебный год  
Школьный этап. География

7 класс

Шифр участника

Теоретический тур

№ задания	Ответ	Кол-во баллов
1	B	0
2	B, B, D, A, E, Z	1
3	Z, B, A, B.	1
4	Z	1
5	a	1
6	d	1
7	B	0
8	1) B 3) Z 2) d 4) B	0
9	B	1
10	Босейн реки	1
11	B	0
12	a	0
13	d	0
14	a	1
15	d	1
Всего баллов		9

Практический тур

Задание № 1

1	2	3	4	5	6	7	8	9	10
K	D	M:	d	B	B	Z	E	K	d

Задание № 2

№ п/п	Имя путешественника, исследователя	Важнейшие открытия
1.	Витус Беринг	Открыл пролив между Азией и Северной Америкой, Чукотское море, северную часть Тихого океана и Чукотский полуостров.
2.	Афанасий Никитин	Первый европеец достигший настоящей Индии
3.		Он был первым человеком, достигшим Южного полюса, а также самым первым путешественником, который побывал на обоих полюсах планеты.
4.	Америго Веспуччи	Выказал открытие континента

Всероссийская олимпиада школьников 2022-2023 учебный год  
Школьный этап. География

5.		Первым из европейцев смог пересечь пустыню Калахари, открыл и исследовал озеро Нгами, открыл озеро Дилоло, водопад, который путешественник назвал в честь королевы Виктории.	
6.	Фернан Магеллан	совершил первое кругосветное путешествие. открыл пролив между Америкой и Европой и южные океаны	1
7.	Микшага Маккад	Жил среди папуасов в Новой Гвинее, изучая их быт и обряды.	1
8.	Иван Крузенштерн		
9.		В 1928 году совершил экспедицию на Памир. В 1933 году – плавание по Северному морскому пути на судне «Челюскин», которое позже затонуло.	
10.	Фаддей Беллинсгаузен	открыл северный морской путь	0

Задание № 3

- северная Америка 2
- в северной Америке
- картографы 1
- движение земной коры
- арктической пустыни. 1

Задание № 4

- 4.1 Первое кругосветное путешествие Магеллана 1  
Даты 1519-1522 2
- 4.2 Ответы:  
Красная линия - маршрут экспедиции из Испании в Индию  
Розовая линия маршрут корабля Виктория в Китай 1  
Крест место гибели Магеллана 1
- 4.3.  
1 - судно 2  
2 - испанцы 1  
3 - испанцы 1

(318)

Всероссийская олимпиада школьников 2022-2023 учебный год  
Школьный этап. География

9 класс




Шифр участника




Теоретический тур

№ задания	Ответ	Кол-во баллов
1	2)	1
2	1)	1
3	1)	1
4	2)	1
5	2, 3)	1
6	1: 50000000 мм в 1 см 50 км	1
7	5)	1
8	2)	1
9	1)	1
10	2, 8)	1
11	4) 1) 2) 3) 6) 2) 3) 5)	0
12	4) - 1); 5) - 1); 6) - 2); 7) - 3)	0
13	2)	1
14	2)	1
15	1)	1
Всего баллов		13

Практический тур

Задание № 1

№ на карте	Фотография географического объекта	Самый (ая)	Название
1		Высокая точка России; самая высокая точка России	Эльбрус 1
2		Самое глубокое и самое чистое озеро в мире	Байкал 1
3		Самая крупная по площади озеро мира	Таймырское море 1

4		Самая длинная река России	Лена 1
5		Самая полноводная река России	Енисей 0,5
6		Самая древняя, богатая равнина России.	Восточно-Европейская равнина 1
7		Самая низкая точка России.	Каспийская низменность. 1

Задание № 2

На сваих дамах строят в северной части России, на территории многолетней мерзлоты, т.к. сваи хорошо переносят многолетнюю мерзлоту (расширение и сжатие почвы под воздействием температуры и воды). Также сваи хорошо подходят для значительного поднятия дома над поверхностью земли, для того чтобы не допустить влаги к фундаментам, для предотвращения траверсирования свободное пространство между сваями (между сваями).

(6,5)

(5,5)

Задание № 3

Водная эрозия -

изменение рельефа земной поверхности под воздействием воды

Причины:

Примеры: отложение пород земли водными таянием снегов, дождевыми водами; образование оврагов.

1. Влияние пося из-за распада стерей человеком. При рас-  
паде пося становится разрыхленным, становится очень  
плодотворной и разрыхляется влиянием. Делает и также сила  
уносит пося. 3
2. Отсутствие деревьев. 1

88

Задание № 4

- 1) Минимальная и максимальная доля детей и подростков показана на рисунке 2<sup>1</sup>. Минимальная и максимальная доля населения старше трудоспособного возраста показана на рисунке 1<sup>4</sup>. 20

- 2) Максимальная доля детей и подростков в Гюмре, т.к. там в Гюмре преобладают традиционный тип общества со всей высокой рождаемостью. Также по этой причине очень высокая доля рождаемости в Чехии, Исландии, Аргентине, так же высокая доля рождаемости людей. Максимальная доля населения старше трудоспособного возраста в Гюмре, т.к. от туда наблюдается сильный отток трудоспособного, молодого населения из-за малого кол-ва перспектив и стремления трудоспособного населения в регионы, способные предоставить хорошее образование, перспективы и рабочие места. 35

55

Задание № 5

- 1) Какие страны обозначены цифрами?

- 1 - Финляндия
- 2 - Канада
- 3 - Иран
- 4 - Узбекистан
- 5 - Китай

- 2) Какие из них являются для России странами-соседями второго порядка?

Иран, Узбекистан 1

- 3) Назовите названия столиц указанных на карте стран. За каждый правильный ответ 1 балл.

- 1 - Хельсинки
- 2 - Вадуйва
- 3 - Тиссеран
- 4 - Ташкент
- 5 - Пекин

125

Итого за задание 12 баллов.

49,5



Всероссийская олимпиада школьников 2022-2023 учебный год  
Школьный этап. География

9 класс

1555




Шифр участника

Теоретический тур





№ задания	Ответ	Кол-во баллов
1	3	0
2	9	0
3	1	1
4	2	1
5	3	1
6	1:5000000	1
7	5	1
8	2	0
9	3	1
10	В.	1
11	Ч. В. В. В. В. В.	0
12	А-4 В-3 В-2 Г-1	0
13	3	1
14	2	1
15	1	1
Всего баллов		10

Практический тур

Задание № 1

№ на карте	Фотография географического объекта	Самый (ая)	Название
1		Высшая гора в России.	г. Эльбрус 1
2		Глубокое озеро в мире.	Байкал 1
3		Большее по площади озеро	Каспийское море 1

Всероссийская олимпиада школьников 2022-2023 учебный год  
Школьный этап. География

4		Река с самым большим бассейном	Лена 0,5 1
5		Самая полноводная река в РФ.	Енисей 0,5 1
6		<del>Восточно-Европейское возвышенность равнина</del> Самая большая равнина в Европе.	<del>Самая большая равнина в Европе</del> Восточно-Европейская равнина 1
7		<del>Прикаспийская низменность.</del> Самая большая (глубокая) низменность в РФ	<del>Низовая Прикаспийская низменность</del> 1

6,5

Задание № 2

Дома на сваях в России строят в Норильске и других городах и посёлках за Полярным кругом. Это нужно чтобы дом не перекашивало в условиях многолетней мерзлоты.

2+1=3,5

Задание № 3

Водя Эрозия - выветривание воды микроорганизмами

Причины:

1. В горах сильные ветры, они могут переносить микроорганизмы.

2. \_\_\_\_\_  
\_\_\_\_\_  
\_\_\_\_\_  
\_\_\_\_\_
3. \_\_\_\_\_  
\_\_\_\_\_  
\_\_\_\_\_  
\_\_\_\_\_

**Задание № 4**

- 1) Минимальная и максимальная доля детей и подростков показана на рисунке 2. Минимальная и максимальная доля населения старше трудоспособного возраста показана на рисунке 1.
- 2) На втором рисунке изображены республики Чечня и Ингушетия. Они расположены в горах, продолжительность жизни там выше, значит и стариков там больше, соответственно, детей больше на рисунке 2

2+1  
3б

**Задание № 5**

1) Какие страны обозначены цифрами?

- 1 - Индонезия  
2 - Польша  
3 - Иран  
4 - Узбекистан  
5 - Китай (КНР)

2) Какие из них являются для России странами-соседями второго порядка?

Узбекистан, Иран

3) Напишите названия столиц указанных на карте стран. За каждый правильный ответ 1 балл.

- 1 - Хельсинки  
2 - Варшава  
3 - Тегеран  
4 - Ташкент  
5 - Пекин

12б

Итого за задание 12 баллов.

345

1297

Задание № 2 (10 баллов)

№	Страна	набор	Количество лет
1.	Боснийская	Аравия	5 15 1
2.	4	<del>Бразилия</del> Ангола	4 22,8 1
3.	3	Бразилия	3 20,4 1
4.	2	Мексика	2 18,7 1
5.	1	Китай	1 11,4 1

Задание № 3 (10 баллов)

Напишите название области	Курская	0
Назовите железорудный бассейн, сформировавшийся преимущественно на месторождениях железных руд, территориально приуроченных к этой области.	КМА	2
Как называется комбинат по производству электростали, который работает в области?	Старо-Вокосский металлургический комбинат	2
Каковы его технологические особенности?	электрометаллургия, без доменной печи, на электричестве	1
В каком городе находится данный комбинат?	Стар. Афон	2

Задание № 4 (10 баллов)

№	Вопрос	Ответ
1.	В каком году был официально образован Европейский союз?	1993 1
2.	Сколько стран входят в Европейский союз на 2022 г.?	28 0
3.	Какая страна вышла из Европейского Совета в 2020 г.?	Великобритания 2
4.	Перечислите страны, которые являются кандидатами в члены ЕС (не менее двух)	Украина, Турция, Албания 2
5.	В какой стране находится штаб-квартира Европейского союза?	Брюссель, Бельгия 1

68

Всероссийская олимпиада школьников 2022-2023 учебный год  
Школьный этап. География

10-11 класс

Шифр участника

Теоретический тур

№ задания	Ответ	Кол-во баллов
1	БГДВА	1
2	Б	1
3	Череповец	1
4	Кузбасс	1
5	А -	0
6	Б	1
7	В	1
8	Б	0
9	Б	1
10	Б	1
11	Г	1
12	А) 4 Б) 2 В) 7 Г) 5 Д) 3	1
13	В	1
14	Б	1
15	А	0
Всего баллов	15	12

Практический тур

Задание № 1 (10 баллов)

№	Название туристического объекта	Страна нахождения туристического объекта	Количество баллов
1.	Кецуокарский мемориал, гора Вашингтон	США	2
2.	Низинская Башня	Италия	2
3.	Статуя Большого Будды	Тайланд	2
4.	Мемориал Линкольна	США	2
5.			
Всего баллов			8

Задание № 5

1. ОЭЗ-особая экономическая зона. Задача - Критерии развития территории. Ищем льготы государства, стимулы развития

ОЭЗ	Специализация	Фактор размещения	Расположение в федеральном округе
«Дубна»	Технологии	Наукоёмкость	ЦФО
«Томск»	Технологии	наукоёмкость 2	СФО
«Ворота Байкала»	Туризм 2	Природно-ресурсный	СФО
«Титановая долина»	Промышленность	Наукоёмкость, Ресурсоёмкость	УФО 2
«Восточный туристический кластер» 2	Туризм	Природно-ресурсный	ЮФО
«Моглино»	Промышленность	Приграничное положение	СЗФО

108

548